

- Quelles ont été les causes de la Crise de 1929 au Canada?

## MOTS CLÉS

**Une récession :** Moins grave qu'une dépression, une récession est une baisse de l'activité économique durant laquelle la valeur des biens et des services diminue.

**Une dépression :** Une longue période de difficultés économiques et sociales accompagnée d'un taux de chômage très élevé.

**Une économie de marché :** Un système dans lequel les individus sont libres de vendre et d'acheter des biens à des prix déterminés selon l'offre et la demande.

**Une économie mixte :** Un système dans lequel les individus et le gouvernement peuvent produire des biens.

**L'offre et la demande :** La quantité disponible d'un certain produit et le désir du marché d'acheter ce produit; le prix du produit varie selon l'offre et la demande.

**Une pénurie :** Un manque.

**La prospérité :** Dans le cycle économique, la phase de croissance économique.

**Une reprise :** Dans le cycle économique, la phase qui suit une récession et durant laquelle la valeur des biens et services augmente.

## Les causes de la Crise de 1929

La fin de la prospérité des années 1920 a pris la plupart des Canadiens par surprise. L'effondrement de la Bourse, le 29 octobre 1929, a marqué le début d'une **récession** qui s'est transformée en une **dépression**. Cette dépression a duré une décennie, tant au Canada qu'ailleurs dans le monde. Avant d'étudier les causes de cette crise et les mouvements de l'économie de l'époque, voici quelques principes économiques de base.




FIGURE 4-1 Les gens ont envahi les rues de New York après l'effondrement de la Bourse.

## Les principes économiques de base

Dans une **économie de marché**, ou système de libre entreprise, les moyens de production – usines, machinerie et terres – appartiennent aux individus et non au gouvernement. Les individus décident des types de biens et services qu'ils produisent et en établissent les prix. Le Canada a une **économie mixte**, c'est-à-dire que le gouvernement intervient dans l'économie de différentes façons, entre autres en créant des entreprises qui lui appartiennent (par exemple, la Compagnie des chemins de fer nationaux du Canada), en encadrant le droit de grève des travailleurs et en subventionnant certaines industries.

Dans une économie de marché, ou économie mixte, la production et les prix sont déterminés selon **l'offre et la demande**. L'offre désigne la quantité disponible d'un certain produit. En général, si l'offre d'un produit est faible, la demande en fait augmenter le prix; si l'offre est grande, le prix diminue. Par exemple, au début des années 1920, la **pénurie** de blé qui a suivi la Première Guerre mondiale a fait augmenter le prix du blé canadien. Lorsque les autres pays ont commencé à en produire après la guerre, l'augmentation de l'offre a fait baisser le prix.

Une économie de marché connaît régulièrement des cycles de croissance et de déclin (voir la figure 4-2). L'expansion de plusieurs activités économiques engendre une période de **prospérité**. Très souvent, cette période est suivie d'un ralentissement économique appelé « récession ». Si le ralentissement se prolonge et s'aggrave, on parle de dépression. La **reprise** survient quand la croissance économique reprend.

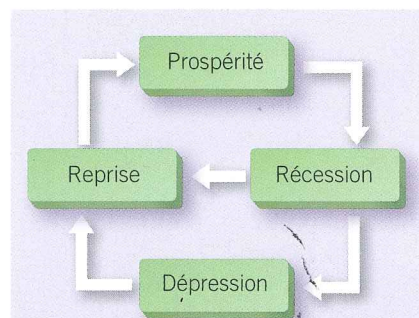


FIGURE 4-2 Dans le cycle économique, une économie de marché connaît des hauts et des bas.

**Esprit critique** Comment les gouvernements peuvent-ils modifier ce cycle? Donnes-en des exemples précis.

## La surproduction

Durant les années 1920, plusieurs entreprises du Canada ont connu une croissance importante parce que la demande pour leurs produits était élevée. Le ralentissement économique a cependant causé une **surproduction**. Au début, les fabricants ont abaissé leurs prix et accumulé des stocks de marchandises. Ils ont aussi réduit leur production. Cette baisse de production a entraîné des mises à pied dans les usines; les gens n'avaient donc plus les moyens d'acheter des produits, ce qui a encore davantage fait diminuer les ventes.

## L'économie dépend des exportations

La Crise de 1929 a mis au jour une faiblesse majeure de l'économie canadienne: elle dépendait de ses exportations de matières premières. Deux produits canadiens en particulier – soit le blé et le papier journal – ont rendu l'économie du pays extrêmement vulnérable aux variations des marchés mondiaux. Le Canada exportait 80 % de sa production agricole, minière et forestière.

Au début des années 1920, les cultivateurs de blé du Canada et des États-Unis ont produit de très grandes quantités de cette céréale, qu'ils ont pu vendre à des prix jamais atteints par le passé. À l'arrivée de nouveaux producteurs de blé sur le marché mondial, la concurrence est devenue plus importante. Il y a eu une surproduction de blé et le prix de ce produit a chuté. En raison de la diminution des ventes, les revenus des producteurs ont baissé. En peu de temps, bon nombre de personnes se sont retrouvées incapables de payer leurs prêts hypothécaires et de faire leurs versements bancaires.

## Les tarifs et le protectionnisme américain

Comme l'économie canadienne était étroitement liée à l'économie américaine, le Canada a été durement frappé par l'effondrement de l'économie américaine.

Étant donné que les États-Unis n'avaient pas besoin des matières premières d'autres pays, ils ont imposé des **tarifs** élevés sur les produits étrangers. Ces tarifs avaient pour but de protéger le marché intérieur des États-Unis en augmentant les prix des produits étrangers, dont le blé canadien. Cependant, ce **protectionnisme** a fait en sorte que d'autres pays ont décidé d'imposer leurs propres tarifs. Ceux-ci ont provoqué une baisse des exportations et, par le fait même, le ralentissement de l'économie mondiale. Lorsque les États-Unis et d'autres pays ont cessé d'acheter des produits canadiens, les exportations canadiennes ont connu une baisse importante.

## MOTS CLÉS

**La surproduction:** Une situation où la quantité de biens produits est supérieure à la quantité de biens vendus; il s'ensuit une baisse de production, ce qui entraîne une augmentation du taux de chômage.

**Un tarif:** Une taxe sur les biens importés.

**Le protectionnisme:** L'imposition de tarifs dans le but d'augmenter les prix des biens importés afin de protéger les producteurs du pays.



**FIGURE 4-3** Une hausse des mesures protectionnistes des États-Unis pour contrer la récession de 2008-2009.

**Interpréter une caricature politique** Comment la caricature illustre-t-elle la réaction du Canada au protectionnisme américain?

## MOTS CLÉS

**Les réparations :** Une compensation d'un ennemi défait pour les dommages qu'il a causés durant la guerre.

**La spéculation :** L'achat d'actions sur marge dans l'attente que la valeur des actions augmente suffisamment pour rembourser un prêt et faire un profit.

**Le mardi noir :** Le 29 octobre 1929, soit la date où la Bourse de New York s'est effondrée.

**Une faillite :** Une situation dans laquelle une personne ou une entreprise ne peut plus payer ses dettes.

## La dette de la Première Guerre mondiale

Les États-Unis ont accordé des prêts à plusieurs pays durant et après la Première Guerre mondiale. Plusieurs de ces pays comptaient sur leurs échanges commerciaux avec les États-Unis pour rembourser leurs dettes. La montée du protectionnisme est toutefois venue contrecarrer leur plan. Entre autres, la Grande-Bretagne et la France se fiaient aux **réparations** que l'Allemagne devait leur verser pour rembourser leurs dettes. Après la Première Guerre mondiale, l'Allemagne était ruinée. Les énormes réparations qu'elle devait payer à la Grande-Bretagne et à la France en vertu du Traité de Versailles nuisaient au redressement de son économie. Puisque l'Allemagne ne pouvait verser ses réparations, la Grande-Bretagne et la France étaient dans l'impossibilité de rembourser leurs dettes.

## La spéculation et l'effondrement du marché boursier

Au début des années 1920, les entreprises prospéraient. Elles voulaient accroître leur marché et, pour obtenir de nouveaux fonds, elles émettaient des actions. De 1922 à 1926, les entreprises canadiennes ont émis pour 700 millions de dollars en nouvelles actions.

Durant les années 1920, plusieurs investisseurs achetaient « sur marge », c'est-à-dire qu'ils se procuraient des actions en versant uniquement 10 % du prix d'achat et attendaient que la valeur des actions augmente pour payer les 90 % restants. Il s'agit de **spéculation**.

Lorsque certains investisseurs ont décidé de vendre leurs actions, plusieurs autres ont décidé de les suivre, ce qui a provoqué une baisse de la valeur des actions. Les gens ont paniqué et ont décidé de vendre d'énormes volumes d'actions, ce qui a provoqué une chute encore plus importante de la valeur des actions. Le **mardi noir**, soit le 29 octobre 1929, la Bourse de New York s'est effondrée, suivie des Bourses de Toronto et de Montréal.

	1928-1929 Moyenne par habitant en \$	1933 Moyenne par habitant en \$	Baisse en %
Canada	471	247	48
Saskatchewan	478	135	72
Alberta	548	212	61
Manitoba	466	240	49
Colombie-Britannique	594	314	47
Île-du-Prince-Édouard	278	154	45
Ontario	549	310	44
Québec	391	220	44
Nouveau-Brunswick	292	180	39
Nouvelle-Écosse	322	207	36

**FIGURE 4-4** Le revenu annuel moyen par habitant, 1928-1929 et 1933. Ces chiffres représentent la moyenne canadienne; plusieurs Canadiens avaient un revenu très inférieur à cette moyenne et beaucoup n'avaient aucun revenu.

**Utiliser des preuves** Selon toi, quelle province a été la plus durement touchée par la grande crise? Explique ta réponse.

## La dégringolade économique

Les effets du mardi noir sur le marché boursier ont été dévastateurs. Les investisseurs qui avaient emprunté de grosses sommes pour acheter des actions ont fait **faillite** le jour même. Plusieurs entreprises ont réduit leur production ou fermé leurs portes parce que leurs produits avaient perdu beaucoup de valeur. Les pertes d'emplois se multipliaient. Une personne au chômage ne pouvait acheter des biens de consommation. À cause de cette baisse, les travailleurs des usines qui produisaient ces biens ont aussi perdu leurs emplois. En un an, des millions de Canadiens se sont retrouvés au chômage.

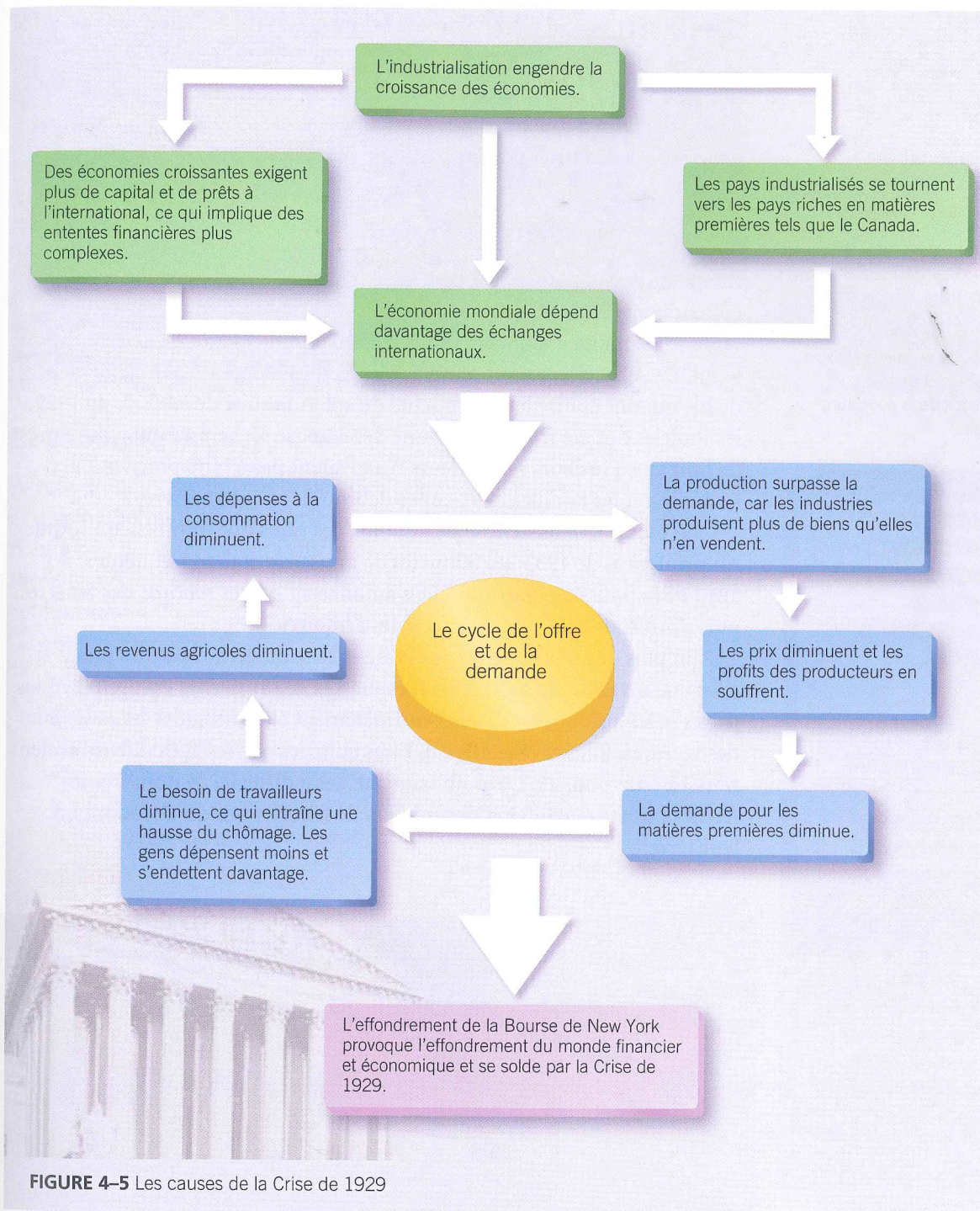


FIGURE 4-5 Les causes de la Crise de 1929

## QUESTIONS PRATIQUES

- a) Quels facteurs ont contribué à la Crise de 1929?

b) Explique comment la réduction des dépenses de consommation peut entraîner le ralentissement de l'économie.
- Pourquoi la grande crise a-t-elle été aussi grave au Canada? Quelle partie du pays a été la plus durement touchée? Pourquoi?
- Explique les raisons pour lesquelles les liens économiques étroits entre le Canada et les États-Unis ont contribué à la grande crise.
- Comment expliquer qu'autant de personnes aient pu investir dans des actions?
- Schémas et évolution** Quelles sont les ressemblances et les différences entre la crise boursière de 2008-2009 et la Crise de 1929?